

(Inhomogen) Lineare Differentialgleichungen zweiter Ordnung

- Ein Schwingkreis wird von einer zeitlich veränderlichen Spannung $U : \mathbb{R} \rightarrow \mathbb{R}$ angeregt. Der Strom $I : \mathbb{R} \rightarrow \mathbb{R}$, der durch die Leiterschleife fließt, erfüllt $LI''(t) + RI'(t) + \frac{1}{C}I(t) = U'(t)$ für alle Zeiten $t \in \mathbb{R}$, wobei $L, R, C \in \mathbb{R}_{>0}$. Zeigen Sie für $y : \mathbb{R} \rightarrow \mathbb{R}$ mit $y(t/\sqrt{CL}) = I(t)$ und $b : \mathbb{R} \rightarrow \mathbb{R}$ mit $b(t/\sqrt{CL}) = CU'(t)$, dass

$$y''(x) + 2\alpha y'(x) + y(x) = b(x) \quad (1)$$

für alle $x \in \mathbb{R}$, wobei $2\alpha := R\sqrt{C/L}$.

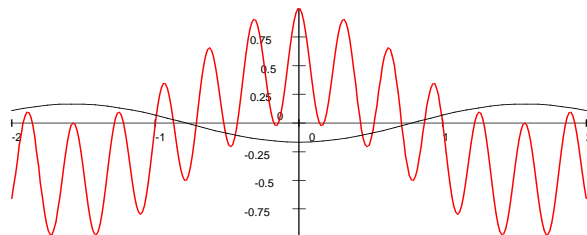
- Sei $\alpha \in \mathbb{R}_{\geq 0}$. Bestimmen Sie mittels Exponentialansatz ein Fundamentalsystem von (1) für $b = 0$. Unterscheiden Sie dabei die 3 Fälle $0 \leq \alpha < 1, \alpha = 1, \alpha > 1$. Zeigen Sie die lineare Unabhängigkeit des gefundenen Lösungspaars über die Wronskideterminante. Hinweis: Benützen Sie den Ansatz $y(x) = f(x) \exp(-x)$, um für $\alpha = 1$ eine zweite, linear unabhängige Lösung zu erhalten.
- Der Ansatz $y(x) = A \cos(qx)$ für eine Lösung von $y''(x) + y(x) = \cos(qx)$ auf \mathbb{R} ergibt für $q \in \mathbb{R}$ mit $q^2 \neq 1$ eine eindeutige maximale Lösung C_q . Für $q^2 = 1$ funktioniert der Ansatz $y(x) = Ax \sin(x)$. Zeigen Sie, dass für alle $x \in \mathbb{R}$

$$C_q(x) = \begin{cases} \frac{1}{1-q^2} \cos(qx) & \text{für } q^2 \neq 1 \\ \frac{x}{2} \sin(x) & \text{für } q = \pm 1 \end{cases} .$$

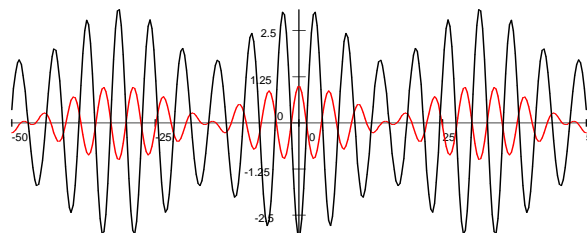
Für die Differentialgleichung $y'' + y = g$ mit $g : \mathbb{R} \rightarrow \mathbb{R}, x \mapsto \sum_{q \in I} a_q \cos(qx)$ mit endlicher Menge $I \subset \mathbb{R}$ und reellen Konstanten a_q ist dann $y_g := \sum_{q \in I} a_q C_q$ eine maximale Lösung. Warum? Berechnen Sie y_g für $g : \mathbb{R} \rightarrow \mathbb{R}, x \mapsto \cos(q_1 x) \cos(q_2 x)$ mit $q_2 > q_1 + 1 > 1$. Hinweis: $\cos(\alpha) \cos(\beta) = (\cos(\alpha + \beta) + \cos(\alpha - \beta)) / 2$. Lösung:

$$y_g(x) = -\frac{1}{2} \left(\frac{\cos((q_2 + q_1)x)}{(q_2 + q_1)^2 - 1} + \frac{\cos((q_2 - q_1)x)}{(q_2 - q_1)^2 - 1} \right)$$

Die erste Abbildung zeigt g (rot) und y_g (schwarz) für den Fall $q_1 = 9$ und $q_2 = 11$. Liegt im Fall der Figur Resonanz vor? Warum überträgt sich die hochfrequente Oszillation der Inhomogenität g nicht „laut und deutlich“ auf die Lösung y_g ?



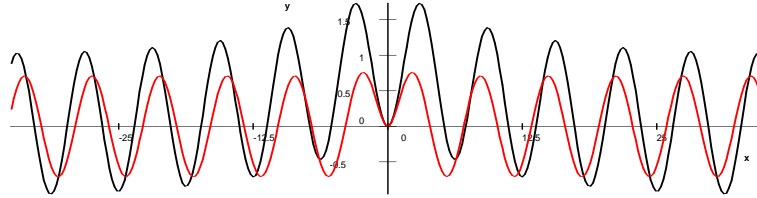
Die zweite Abbildung zeigt den Fall $q_1 = 0, 1$ und $q_2 = 1, 2$ einer Schwebung. Resonanz verstärkt hier die Wirkung y_g gegenüber der Ursache g .



4. *Sei in Gleichung (1) $\alpha = 0$ und $b(x) = \exp(-\lambda|x|)$ mit $\lambda \in \mathbb{R}_{>0}$. Die Funktion y sei die maximale Lösung von Gleichung (1) mit $y(0) = y'(0) = 0$. Zeigen Sie mithilfe der Lösungsformel, dass für alle $x \in \mathbb{R}$

$$y(x) = \frac{1}{1 + \lambda^2} \left(e^{-\lambda|x|} - \cos(x) + \lambda \sin|x| \right).$$

Hinweis: Es genügt den Fall $x > 0$ zu berechnen, denn eine Symmetrie und die Eindeutigkeit der Lösung bewirken, dass $y(-x) = y(x)$ für alle $x \in \mathbb{R}$.



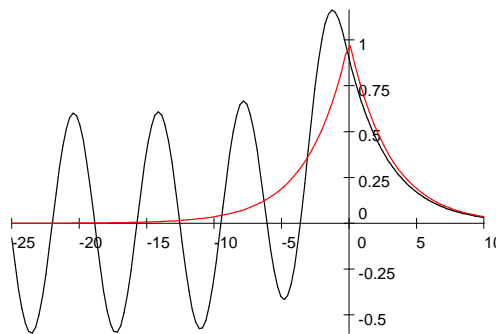
Lösung für $\lambda = 1/10$ und $\lambda = 1$ (rot)

Zeigen Sie, dass genau eine Lösung y_{av} von Gleichung (1) mit $\lim_{x \rightarrow \infty} y_{av}(x) = 0$ existiert. Zeigen Sie,¹ dass $y_{av} = y - y_0$ mit

$$y_0(x) = \frac{1}{1 + \lambda^2} (-\cos(x) + \lambda \sin(x)),$$

und dass für alle $x \in \mathbb{R}$

$$y_{av}(x) = \frac{1}{1 + \lambda^2} \left[e^{-\lambda|x|} + 2\lambda\Theta(-x) \sin|x| \right].$$



$y_{av}(x)$ und $\exp(-\lambda|x|)$ für $\lambda = 1/3$

¹ y_{av} heißt avancierte Lösung. Sie schwingt *bevor* die Inhomogenität wirkt und schwingt nicht mehr *nachdem* die Inhomogenität gewirkt hat. Sie beschreibt das Einbremsen einer reibungsfreien Schwingung durch eine äußere Kraft. Die zeitgespiegelte Funktion $y_{ret}(x) := y_{av}(-x)$ ist Lösung der Schwingungsgleichung mit zeitgespiegelter äußerer Kraft. Sie heißt retardierte Lösung. Sie beschreibt einen Oszillator, der von der äußeren Kraft zum Schwingen gebracht wird. Die elektromagnetischen Analoga von y_{av} und y_{ret} beschreiben dementsprechend Absorptions- und Ausstrahlungsvorgänge.